

1-4

松本城天守創建に関わる基礎知識

松本城管理事務所研究室

石川氏により松本城天守3棟が創建されます。平成2年「松本城築造年代懇談会」はそれまで諸説あった天守創建年代について可能な限り資料を集め検討してその年代を決めました。この決定により「松本城400年祭り」が開催されました。

1 松本城天守3棟（大天守・渡櫓・乾小天守）は石川康長によって何時（いつ）創建されましたか。正しいものに○を付けなさい。

- ① 文禄3年(1594)着工・竣工
- ② 文禄2年(1593)12月着工、文禄4年(1595)2月以前竣工
- ③ 文禄3年(1594)着工・慶長2年竣工(1597)
- ④ 天正末年(1591)着工・慶長5・6年頃(1600~1601)竣工

2 石川氏は秀吉の命を受けて関東の家康を監視するため天正18年(1590)に松本に入封しますが、すぐ天守建築に取りかかれませんでした。その原因と考えられること2つを選び○を付けなさい。

- ① 朝鮮出兵のため肥前(佐賀)名護屋に出陣していたから
- ② 建築・石垣・屋根など職人を集めるのに手間どったから。
- ③ 秀吉と家康の対立が険悪で天守を建てるための時間的余裕が生まれなかった。
- ④ 松本領の範囲が確定せず周辺の領主と争っていたから。



※ (秀吉方の沼田・上田・小諸・松本・高島・甲府の諸城による家康包囲網) ▲

3 康長は秀吉の大坂城のように巨石(玄蕃石)を太鼓門桁形の石垣に据えていますが、図のように「そり」にのせて運びました。この「そり」を一般的になんと呼ぶでしょう。○を付けなさい。

- ① 人漕 (ひとぞり)
- ② 修羅 (しゅら)
- ③ 岡船 (おかぶね)
- ④ 神楽棧 (かぐらさん) ※江戸時代は「おおさか」を「大坂」と表記



4 大天守は京間寸法で設計されています。京間寸法の1間の尺度に○を付けなさい。

① 5尺 5寸
約 165cm

② 6尺
約 180cm

③ 6尺 3寸
約 189cm

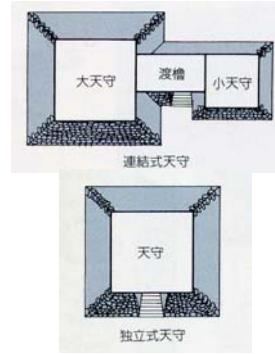
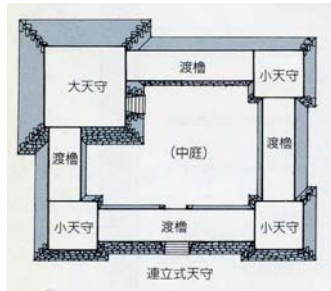
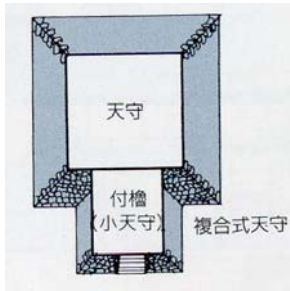
④ 6尺 5寸
約 195cm

5 石川氏の建てた天守3棟はなんという「天守形式」ですか。○を付けなさい。

① 複合式天守

② 連立式天守

③ 連結式天守



④ 独立式天守

6 石川康長がやらなかった松本城の築造工事はどれでしょう。○を1つ付けなさい。

① 天守創建

② 総堀の整備

③ 六九町に厩を建設

⑤ 太鼓門の建築

7. 文禄3年(1594)4月に康長は、「源智の井戸の中へ汚い手桶や曲物を入れて水を汲む事と井戸の中へ洗物やあくたを入れること」を禁じています。なぜこのような制札を掲げたのでしょうか。最も正しいと思われるものに○を付けなさい。

① 町家を多く建設したので、町人の人口が急激に増えたから。

② 天守や町家の建設で職人が町に溢れ使用頻度が増えたから。

③ 水源が枯れはじめ水資源の保護が必要だったから。



8 文禄4年(1595)の2月と3月に康長は町家建設の用材の切り出しを、近くの山には材木がなくなっていたので「島々山」と松本領内のもう一か所を許可しています。その場所に○を付けなさい。

① 木曾山

② 鉢伏山

③ 山家(辺)山

④ 鉢盛山など現在の朝日村の山

9 松本城天守が完成したとき江戸から城見舞に訪れたと伝えられる武将は誰か○を付けなさい。

① 加藤清正

② 徳川秀忠

③ 山内一豊

④ 福島正則

10 松本城天守の創建者、石川康長は慶長18年(1613)に大久保長安事件に連座し改易され大名預けになりました。配流先はどこでしょう。○を付けなさい。

① 八丈島

② 肥後熊本

③ 伊豆大島

④ 豊後佐伯(「さえき」とも読む)

